



**UNIVERSIDADES PÚBLICAS DE LA COMUNIDAD DE MADRID**

PRUEBA DE ACCESO A ESTUDIOS UNIVERSITARIOS (LOGSE)

Curso 2006-2007

**MATERIA:**

GEOGRAFÍA

**INSTRUCCIONES GENERALES Y VALORACIÓN**

Dispone de dos opciones para contestar (A y B). **Debe escoger exclusivamente una de ellas.**

La puntuación total será en ambas opciones de **10 puntos**, correspondiendo a la primera parte **1,5 puntos**, a la segunda **4 puntos**, a la tercera **2,5 puntos** y **2 puntos** a la cuarta.

**TIEMPO. Duración de la prueba:** “1 hora y 30 minutos”.

**OPCIÓN A**

**1ª Parte**

Defina, en el cuadernillo adjunto, **seis** de los siguientes términos o conceptos geográficos, utilizando como máximo una cara del cuadernillo:

**Paralelos, Albufera, Masa de aire, Maquia, Tasa de mortalidad infantil, Área metropolitana, Comisión europea, Dolina.**

*Puntuación máxima: 1,5 puntos.*

**2ª Parte**

Tema: “*Los relieves exteriores a la Meseta.*”

Desarrolle, de manera sintética, el tema propuesto (utilice, como máximo, ambas caras de un folio). Como “*indicativos*” se señalan los siguientes epígrafes:

- Localice y enumere los mismos.
- Evolución geológica.
- Caracterización general de la litología.
- Estructura geomorfológica.

*Puntuación máxima: 4 puntos.*

**3ª Parte**

**Comentario de la fotografía adjunta:**

Comente el paisaje de la lámina adjunta, atendiendo, al menos, a:

- a) Usos del suelo.
- b) Condicionantes físicos que influyen en la configuración del paisaje.
- c) Cambios en los elementos del paisaje.

*Puntuación máxima: 2,5 puntos.*



**UNIVERSIDADES PÚBLICAS DE LA COMUNIDAD DE MADRID**

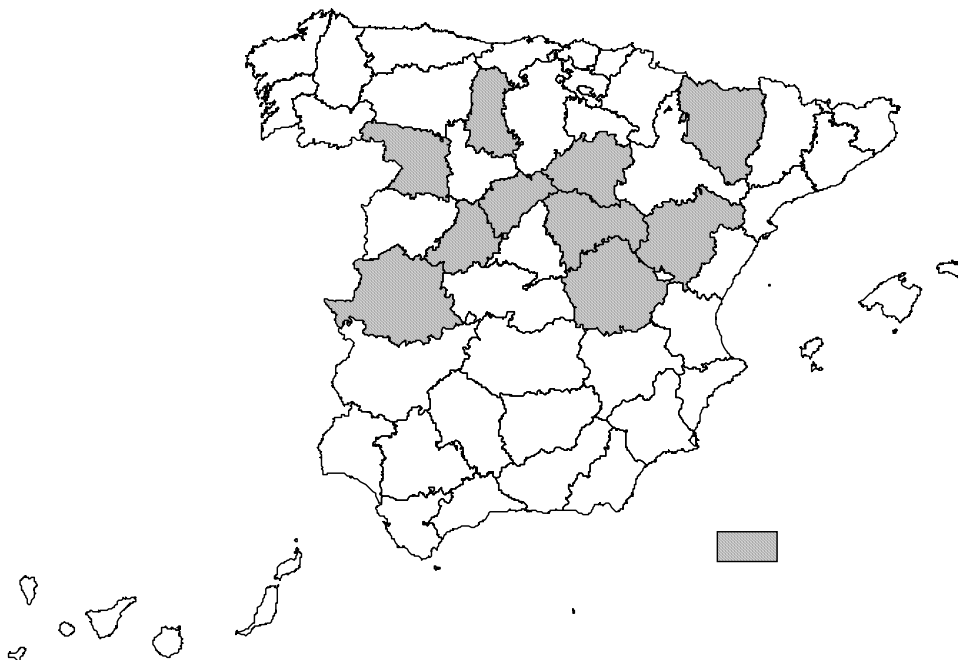
PRUEBA DE ACCESO A ESTUDIOS UNIVERSITARIOS (LOGSE)  
Curso 2006-2007

**MATERIA:** GEOGRAFÍA

**4ª Parte**

A la vista del mapa adjunto, “*Provincias con menos de 25 habitantes por km<sup>2</sup>, en 2005*”, indique el nombre de las provincias “tramadas” pertenecientes a dicha categoría; señale las razones que explican esta distribución y comente algunas consecuencias emanadas de este hecho.

*Puntuación máxima: 2 puntos.*



	<b>UNIVERSIDADES PÚBLICAS DE LA COMUNIDAD DE MADRID</b> PRUEBA DE ACCESO A ESTUDIOS UNIVERSITARIOS (LOGSE) Curso <b>2006-2007</b> <b>MATERIA:</b> GEOGRAFÍA	
--	--	--

### INSTRUCCIONES GENERALES Y VALORACIÓN

Dispone de dos opciones para contestar (A y B). **Debe escoger exclusivamente una de ellas.**

La puntuación total será en ambas opciones de **10 puntos**, correspondiendo a la primera parte **1,5 puntos** a la segunda **4 puntos**, a la tercera **2,5 puntos** y **2 puntos** a la cuarta.

TIEMPO. **Duración de la prueba:** “1 hora y 30 minutos”.

### OPCIÓN B

#### 1ª Parte

Defina, en el cuadernillo adjunto, seis de los siguientes términos o conceptos geográficos, utilizando como máximo una cara del cuadernillo:

**Meridianos, Torca, Frente Polar, Landa, Migración, Ciudad dormitorio, Agenda 2000, Tratado de Roma.**

*Puntuación máxima: 1,5 puntos.*

#### 2ª Parte

Tema: “*Principales fuentes de energía, en España*”.

Desarrolle, de manera sintética, el tema propuesto (utilice, como máximo, ambas caras de un folio). Como orientación se señalan los siguientes epígrafes:

- Clasificación o tipos.
- Relación producción/consumo.
- Las políticas energéticas en nuestro país.
- La reconversión de la actividad, tras la incorporación de España a la actual Unión Europea.

*Puntuación máxima: 4 puntos*

**UNIVERSIDADES PÚBLICAS DE LA COMUNIDAD DE MADRID**

PRUEBA DE ACCESO A ESTUDIOS UNIVERSITARIOS (LOGSE)  
Curso 2006-2007

**MATERIA:** GEOGRAFÍA

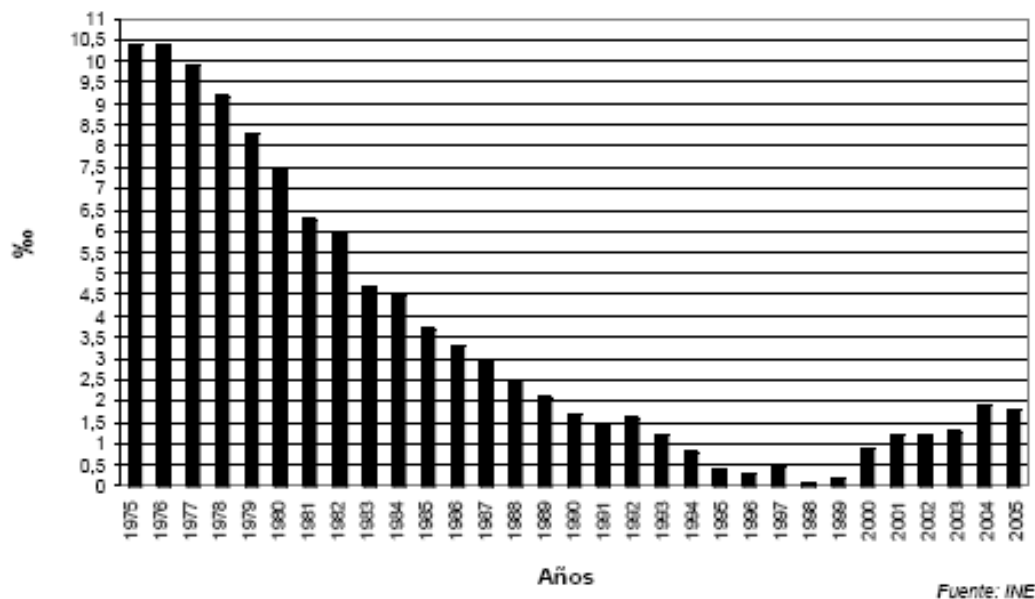
**3ª Parte**

Comente el gráfico adjunto, “*Crecimiento natural o vegetativo de España, 1975-2005 (en ‰)*”, atendiendo al menos a:

- Evolución del crecimiento natural en los últimos treinta años.
- Razones de esta evolución.
- Consecuencias acaecidas y previsibles.
- Relaciónelo con los movimientos migratorios e inmigratorios.

*Puntuación máxima: 2,5 puntos.*

**Crecimiento natural o vegetativo  
de España 1975-2005 en ‰**



**UNIVERSIDADES PÚBLICAS DE LA COMUNIDAD DE MADRID**

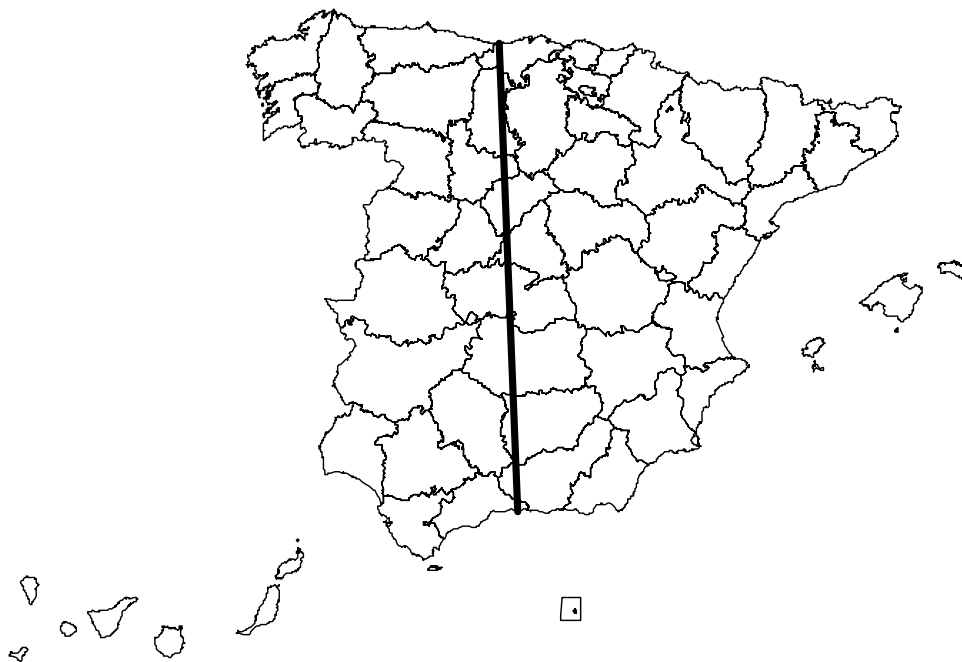
PRUEBA DE ACCESO A ESTUDIOS UNIVERSITARIOS (LOGSE)  
Curso 2006-2007

**MATERIA:** GEOGRAFÍA

**4ª Parte**

A la vista del mapa adjunto, “*Segmento: Unidades del relieve peninsular*”, indique el nombre de las provincias “atravesadas” por el mismo; señale las principales unidades del relieve y escriba lo que sepa sobre su caracterización general.

*Puntuación máxima: 2 puntos.*



## GEOGRAFÍA

### CRITERIOS ESPECÍFICOS DE CORRECCIÓN

#### A) CRITERIO GENERAL:

La puntuación total será en ambas pruebas de **10 puntos**, correspondiendo a la primera parte **1'5 puntos**; a la segunda, **4 puntos**; a la tercera, **2'5 puntos**, y a la cuarta parte, **2 puntos**. La estructura y los criterios de corrección serán los siguientes, tanto para la **Opción A** como para la **Opción B**.

#### B) CRITERIOS CONCRETOS:

**1ª. Primera parte:** *1,5 puntos* (cada término o concepto: *0'25 puntos*).

*Definición* de una serie de *términos geográficos y conceptos*. Las respuestas deberán valorarse con un criterio amplio, ya que son numerosas las correctas posibilidades expresivas. En todo caso, se atenderá a la precisión geográfica en la caracterización del término o concepto, y, a la claridad conceptual.

**2ª. Primera parte:** *4 puntos*

Trata del “*desarrollo de un tema*”, valorando fundamentalmente la ordenación, la estructuración, la coherencia expositivo-argumentativa; la claridad, la precisión y la organización sintética de los conocimientos junto con la correcta localización, la comprensión y caracterización de los fenómenos geográficos que se suman al grado y profundidad de los conocimientos.

**3ª. Primera parte:** *2,5 puntos*

Propone “*el comentario de un documento geográfico*”.

\* Opción A: “*Comentario de una lámina*”. Se valorará positivamente la existencia de una metodología de comentario de fotografías. **Paisaje de Palma de Mallorca.**

- Opción B: “*Comentario de un instrumento gráfico*”. Se valorará la capacidad de extraer información, analizar los datos y caracterizar la situación, en una relación causa-efecto.

**4ª. Primera parte:** *2 puntos*

Presenta unos *mapas* cuyo comentario tiene una puntuación máxima de **2 puntos**; en ellos debe atenderse a la correcta localización y caracterización de los elementos solicitados.

Opción A: **Palencia, Huesca, Soria, Segovia, Ávila, Zamora, Cáceres, Guadalajara, Cuenca, Teruel.**

Opción B: **Santander, Palencia, Valladolid, Segovia, Madrid, Toledo, Ciudad Real, Jaén, Granada, Málaga.**

En las cuatro partes de que consta la prueba, se considerarán elementos de ponderación; v.gr.: la calidad de la redacción, la corrección expositivo-argumentativa, la gramatical y la ortografía.

